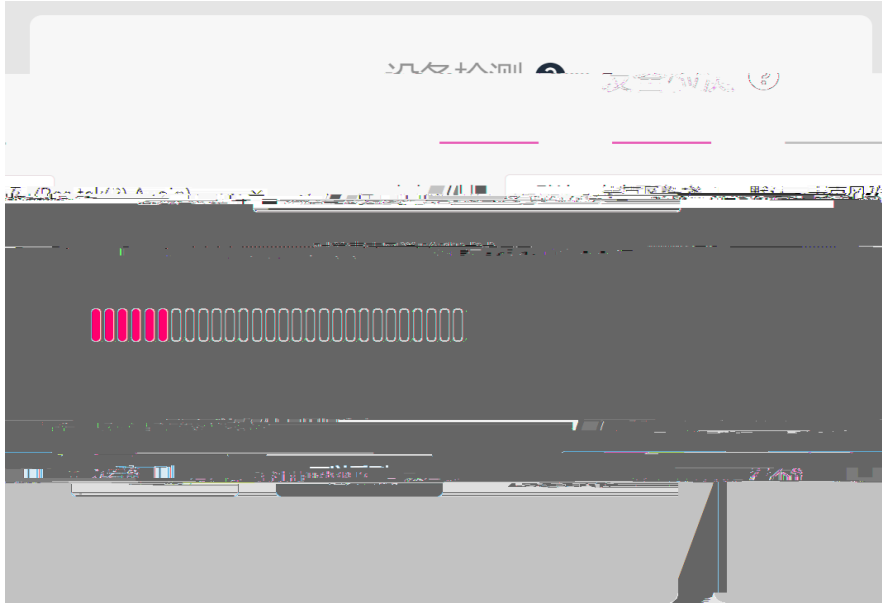


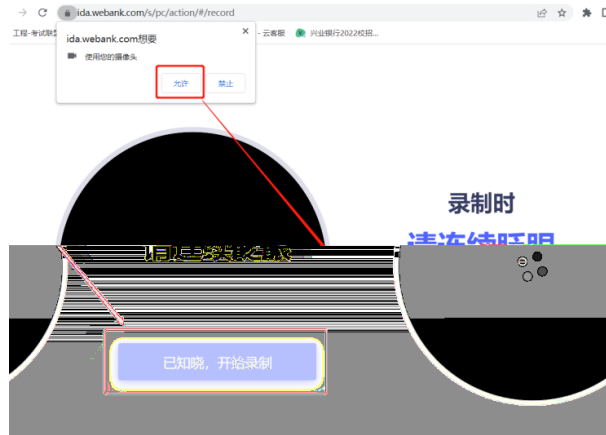


确认信息

| | |
|------|----------------------|
| 姓名 | <input type="text"/> |
| 性别 | 男 |
| 证件类型 | 大陆居民身份证 |
| 证件号码 | <input type="text"/> |
| 出生日期 | <input type="text"/> |
| 手机号 | <input type="text"/> |







请确保本人操作且正脸对框






人脸验证通过



开启第一视角监控



播放示意图



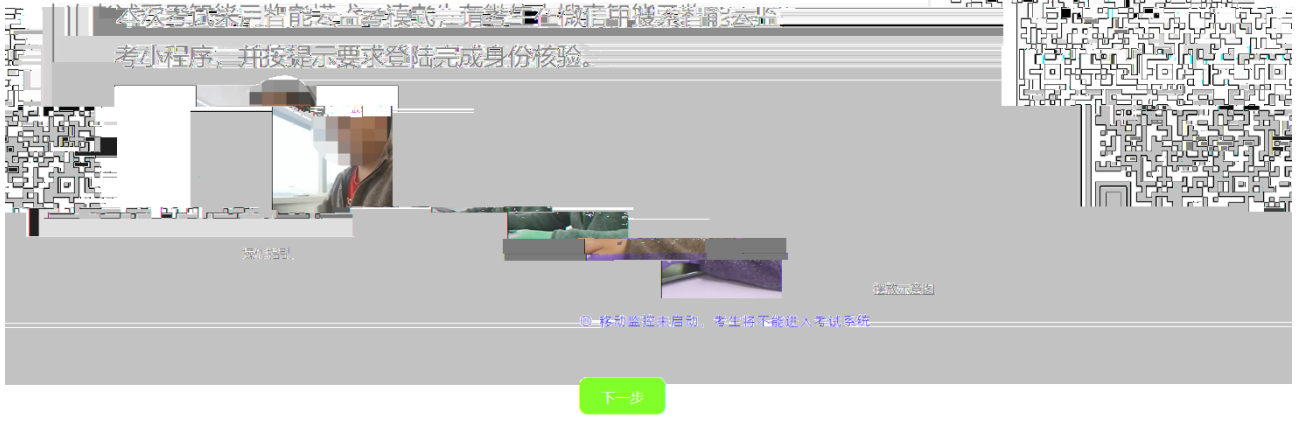
准考证号: [REDACTED]

考试ID: [REDACTED]

扫描二维码开启智能云监考小程序




微信



下一步





③

导航

11

2

一、 11

1. 如图所示, 下图表示了糖酒 () 的立面图。

(总分: 50.0分)

- A. 避车洞
- B. 洞口
- C. 排水系统
- D. 衬砌结构

工具栏

A

小

中

大

已完成

■ 当前题

未做题

□ 标记题

7



下一题

上一题

-
-
-
-
-
-
-
-
-
-
-
-
-
-
-
-
-

